









阶段评估测评卷(月考一)



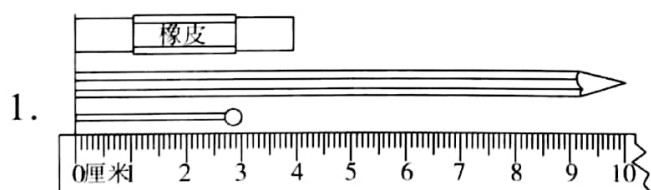
时间:70 分钟 满分:110 分

题号	一	二	三	四	五	六	七	附加题	总分
得分									

一、小动物们谁先到家?(12 分)

			
52+7=	69-6=	35+8=	52-9=
60-8=	6+40=	89-80=	0+47=
3+39=	95-0=	71-7=	62+8=
			

二、快乐填一填。(每空 1 分,共 18 分)



火柴棒长()厘米,
铅笔长()厘米,
橡皮长()厘米。

2. 62 比 26 多(),17 比 45 少()。

3. 在()里填上合适的长度单位。



- (1) 冰箱高约 2 ()。
- (2) 毛巾长约 60 ()。
- (3) 黄瓜长约 20 ()。
- (4) 大树高约 12 ()。



4. 找规律,在()里填上合适的数。

97, 91, 85, 79, (), (), ()。

5. 在()里填上“>”“<”或“=”。

75 厘米 () 57 厘米


62 - 25 () 36

200 厘米 () 2 米



$54 + 18$ 62 $72 - 18$ $72 + 18$ 1 米 30 厘米 1 米 10 厘米

三、我当小法官。(对的打“√”,错的打“×”)(4 分)

1. 小明伸开双臂的长度是 16 米。 ()
2.  这个三角形中有 3 条线段。 ()
3. 小明身高 90 米。 ()
4. 减数、被减数都是 25, 差也是 25。 ()

四、我是计算小能手。(17 分)

1. 用竖式计算。(12 分)

$25 + 33 =$

$72 - 38 =$

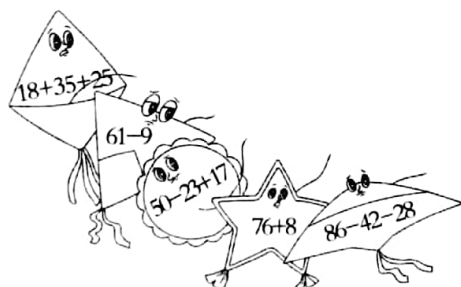
$48 + 36 =$

$47 + 16 + 28 =$

$90 - 25 - 36$

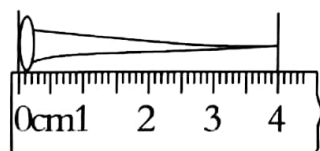
$80 - 43 + 25 =$

2. 风筝是谁的?(连一连)(5 分)

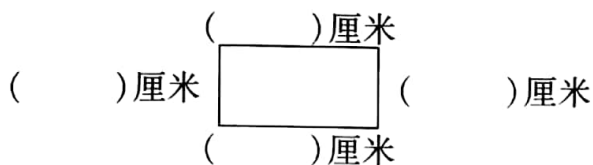


五、动手填一填,画一画。(共 10 分)

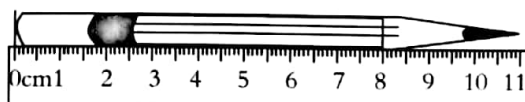
1. 量一量,填一填。(7 分)



() 厘米



() 厘米



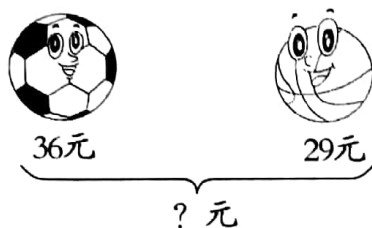
() 厘米



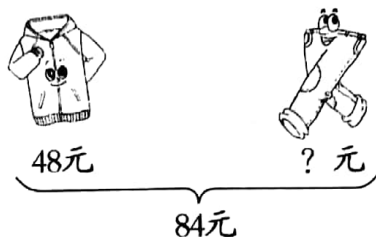
2. 画一条比 2 厘米长、比 5 厘米短的线段。(3 分)

六、看图列式计算。(6 分)

1.

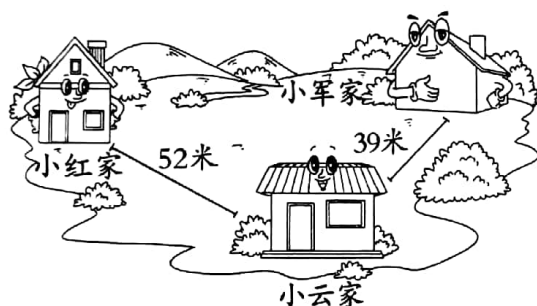


2.



七、生活中的数学应用。(33 分)

1. (8 分)



(1) 从小红家到小军家要走多少米?

(2) 小红到小云家比小军到小云家远多少米?

2. 幼儿园有 70 名小朋友。把下面这些苹果分给小朋友,每人分一个,够吗?(5 分)




46 个



27 个



3. (5 分)




笑笑想买的礼物是哪两样? 应花多少元?

4. (5 分)



18 元




29 元




22 元

这些东西都买一个, 需要多少元?

5. 商店运进 72 箱 , 卖出 29 箱, 又运进 47 箱, 商店现在有多少箱牛奶? (5 分)

6. (5 分)



这两只青蛙再吃多少只害虫就够 100 只了?



附加题 (共10分)

一辆公交车到站后, 下去 26 名乘客, 又上来一些乘客, 这时车上的乘客比原来多 8 名, 你知道有多少名乘客上车吗?

